

# *Escola de Mestres*

## *Geografia*

Exames Supletivos – Nível Médio  
Rio de Janeiro e Minas Gerais (Juiz de Fora)

**(0xx21) 2549-0678**

<http://www.escolademestres.com>

É proibida a reprodução por qualquer meio deste trabalho sem prévia autorização dos autores. Se você não comprou este CD diretamente conosco e deseja saber se este CD é **PIRATA** ou, caso saiba que este CD é **PIRATA**, deseja comunicar-nos este fato, escreva para [admin@escolademestres.com](mailto:admin@escolademestres.com) (pode ser um e-mail anônimo – não iremos rastrear). Em qualquer caso, agradeceremos a colaboração.

# *Escola de Mestres*

*Cursos preparatórios em sistema de aulas quase particulares - grupos de no máximo 5 alunos. Material didático especialmente formatado para o supletivando. Os alunos **efetivamente** terminam o curso em um período médio de 8 meses (podendo este tempo cair para 6, 4 ou 3 meses, dependendo do nível escolar onde ele parou).*

*Estamos em contato com as principais bancas de exames localizadas próximo ao Rio de Janeiro ou ao local onde você mora. Você pode fazer por procuração sua inscrição e receber seus certificados através dos nossos serviços, só necessitando se deslocar para fazer as provas.*

*Se desejar, pode continuar seus estudos fazendo um pré-vestibular, ou um pré-técnico, por exemplo. Aqui você tem a garantia de estar entre pessoas que realmente se preocupam com você...*

**Ligue P 0xx21 2549-0678**

**admin@escolademestres.com Ü Escreva**

**Visite P <http://escolademestres.com/supletivo>**

**Siqueira Campos 43/515 Ü Decida  
Copacabana - RJ**

*“Quando eu disse para o caroço da laranja que dentro dele dormia um laranjal inteirinho, ele me olhou estupidamente incrédulo.”*

# Índice

<i>Exame do Rio de Janeiro, 1997</i>	<i>pág 2</i>
<i>Resolução</i>	<i>pág 15</i>
<i>Exame de Juiz de Fora, dezembro de 1999</i>	<i>pág 17</i>
<i>Resolução</i>	<i>pág 26</i>
<i>Exame do Rio de Janeiro, 1999</i>	<i>pág 28</i>
<i>Resolução</i>	<i>pág 33</i>
<i>Exame de Juiz de Fora, julho de 2000</i>	<i>pág 34</i>
<i>Resolução</i>	<i>pág 43</i>
<i>Resumo Teórico da Matéria</i>	<i>pág 45</i>

*Todas as provas resolvidas e transcritas são relativas ao conteúdo e aos exames de suplência no nível do 2º grau.*

*Informações sobre as provas poderão ser obtidas pelo telefone:*

*0xx21 2549-0678.*

*Temos cursos preparatórios para as provas!*

*De qualquer forma,*

*Boa Sorte!*

**Supletivo Rio de Janeiro - Geografia - 1997**

**1-** Os países que têm maior importância econômica no Mercosul são:

- (A) Argentina e Uruguai                      (B) Paraguai e Uruguai  
(C) Brasil e Argentina                      (D) Brasil e Paraguai                      (E) Uruguai e Brasil

**2 -** O ar rarefeito associado às baixas densidades demográficas e ao pastoreio seminômade de lhamas e carneiros caracterizam a região conhecida por:

- (A) pampa platino                      (B) altiplano andino                      (C) chaco paraguaio  
(D) planalto mexicano                      (E) planalto amazônico oriental

**3 -** A existência de mão-de-obra temporária no campo está relacionada à seguinte realidade:

- (A) produção agrícola destinada principalmente ao mercado interno  
(B) predomínio de agricultura familiar na produção para exportação  
(C) pecuária extensiva com produção destinada à exportação  
(D) estrutura fundiária com grande número de minifúndios  
(E) baixa densidade demográfica na área rural

**4 -** Desde a década de 70 o narcotráfico vem-se destacando nos noticiários nacionais e internacionais. Um dos fatores que consolidou os cartéis da droga na América Latina foi:

- (A) o aumento da produção de drogas nos países centro-americanos  
(B) o crescimento do consumo de drogas nos Estados Unidos  
(C) a boa qualidade de vida dos camponeses andinos  
(D) a firmeza dos governos autoritários  
(E) a ausência de grupos guerrilheiros

**5 -** Durante toda a Guerra Fria, a América Central Continental e o Caribe foram considerados áreas vitais para a segurança norte-americana e sofreram influência geopolítica direta dos Estados Unidos. Dentre os países dessa região que tiveram intervenções norte-americanas podemos assinalar:

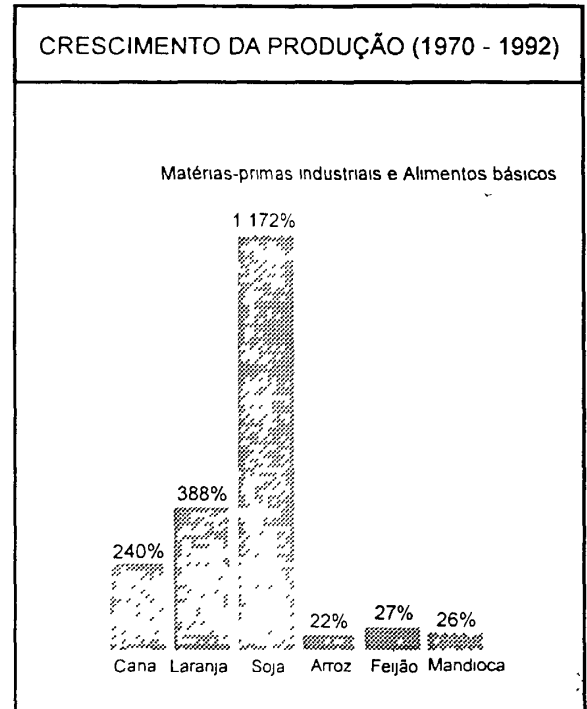
- (A) Guatemala, Cuba e Belize                      (B) Guatemala, Cuba e Panamá  
(C) Porto Rico, Belize e Nicarágua                      (D) Nicarágua, Belize e Costa Rica  
(E) Costa Rica, Panamá e Porto Rico

## Supletivo Rio de Janeiro - Geografia - 1997

6 - Observe o gráfico ao lado.

Através da análise do gráfico sobre o crescimento da produção de alguns produtos agrícolas do Brasil, podemos dizer que

- (A) Os alimentos básicos não tiveram aumento da produção.
- (B) Os alimentos básicos tiveram os maiores percentuais de aumento da produção
- (C) As matérias-primas industriais tiveram os menores percentuais de aumento da produção
- (D) As matérias-primas industriais tiveram os maiores percentuais de aumento da produção.
- (E) Os alimentos básicos e as matérias-primas industriais tiveram percentuais de aumento da produção semelhantes



Fontes: FIBGE Estatísticas Históricas do Brasil, FIBGE, Anuário Estatístico do Brasil, 1993

7) "A floresta é derrubada e queimada, fazendo-se a seguir a plantação e posteriormente a colheita. Após alguns anos de cultivo, com o empobrecimento dos solos, abandona-se o local e repete-se o processo em nova área."

As informações acima referem-se a um sistema agrícola muito praticado no Brasil, conhecido por: y'. i r,

- (A) itinerante
- (B) moderno
- (C) intensivo
- (D) "plantation"
- (E) jardinagem

8 - Observe o mapa do Brasil abaixo:



O domínio morfoclimático assinalado no mapa tem por características:

- (A) clima subtropical - mata com araucária
- (B) clima semi-árido - vegetação de caatinga
- (C) clima tropical semi-úmido - vegetação de cerrado
- (D) relevo de planície e baixos platôs - clima equatorial
- (E) relevo de morros arredondados - vegetação de floresta densa e heterogênea

9 - Em meados da década de 70, as dificuldades enfrentadas para a aquisição do petróleo e a política industrial que priorizava os setores de consumo energético foram responsáveis pela construção de usinas hidrelétricas de grande porte.

- 1 - A energia gerada alimenta os grandes projetos minerais da Amazônia oriental: a produção de minério de ferro de Carajás e a produção de alumínio do sistema Albrás-Alunorte, que consome grandes quantidades de energia.
- 2 - Instalada distante dos mercados urbano-industriais, sua potência alcança cerca de 25% de todo o potencial hidrelétrico instalado no país, beneficiando principalmente as Regiões Sudeste e Sul do Brasil.

As usinas hidrelétricas, caracterizadas em 1 e 2, são, respectivamente:

- |                                     |                                    |
|-------------------------------------|------------------------------------|
| (A) Complexo de Urubupungá e Furnas | (B) Xingo e Complexo de Urubupungá |
| (C) Furnas e Tucuruí                | (D) Tucuruí e Itaipu               |
| (E) Xingo e Itaipu                  |                                    |

10 -

"Em julho só choveu duas vezes no Estado do Rio de Janeiro"

(Fonte Jornal do Brasil - 03/08/97)

O fenômeno que agravou o período seco nessa parte do território brasileiro está indicado na seguinte alternativa:

- (A) presença dos Andes impedindo o deslocamento dos ventos provenientes da Antártida
- (B) ocorrência do El Niño dificultando a entrada de massas de ar frio
- (C) queima de combustíveis fósseis causando poluição atmosférica
- (D) massas de ar quente deslocando-se da Região Nordeste
- (E) chuvas convectivas predominando durante o inverno

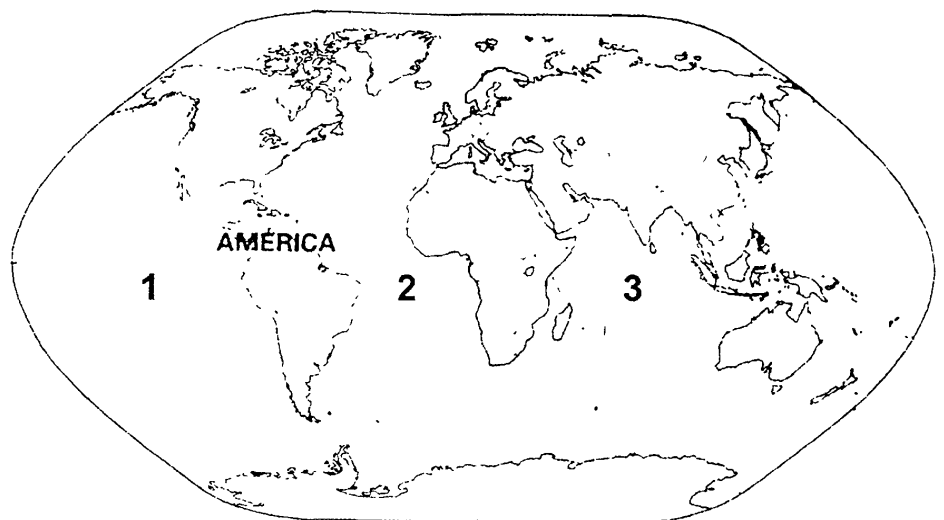
11 - As Unidades da Federação indicadas no mapa pelos números 1, 2 e 3 são respectivamente:

- (A) Pará - Ceará - Paraná
- (B) Pará - Bahia - São Paulo
- (C) Amazonas - Ceará - Paraná
- (D) Amazonas - Bahia - São Paulo
- (E) Tocantins - Alagoas - Santa Catarina



12 - Os oceanos indicados no mapa pelos números 1, 2 e 3 são, respectivamente:

- (A) Pacífico - Atlântico - Índico
- (B) Pacífico - Índico - Atlântico
- (C) Atlântico - Índico - Pacífico
- (D) Atlântico - Pacífico - Índico
- (E) Índico - Atlântico - Pacífico



## Supletivo Rio de Janeiro - Geografia - 1997

**13** - "Barracas e mais barracas de camelos pelas ruas das cidades. Brinquedos, relógios, roupas, equipamentos eletro-eletrônicos. Veículos de porte pequeno e médio circulando pelas ruas, transportando passageiros.

"Made in" (feito em) Coréia do Sul, Cingapura, Taiwan.

O cotidiano do cidadão brasileiro encontra a "ponta" do processo de globalização.

O atual modelo econômico define áreas de produção para certos produtos, aproveitando alguns fatores para baratear os custos e invadir o mercado."

O melhor título para o texto está indicado na alternativa:

- (A) Novos países capitalistas centrais  
(B) Novos países industrializados  
(C) Países de economia socialista  
(C) Países de economia arcaica  
(E) Países de primeiro mundo

**14** - Considere as características abaixo:

- |  |
|--|
| <ol style="list-style-type: none"><li>1. Clima semi-árido</li><li>2. Clima temperado oceânico</li><li>3. Relevo com desníveis acentuados</li><li>4. Relevo de baixas altitudes</li><li>5. Pequena rede hidrográfica</li><li>6. Rios caudalosos permanentes</li></ol> |
|--|

As maiores usinas hidrelétricas do mundo estão localizadas no Brasil, Rússia, Canadá e Estados Unidos. Os fatores que possibilitam, aos quatro países, essa realidade correspondem às características de números:

- (A) 1 e 3  
(B) 1 e 5  
(C) 2 e 4  
(D) 2 e 6  
(E) 3 e 6

**15** - As formas do relevo oferecem condições mais ou menos favoráveis às atividades agrícolas. A técnica utilizada para evitar a erosão do solo em áreas inclinadas do relevo é:

- (A) irrigação  
(B) queimada  
(C) adubagem  
(D) terraceamento  
(E) rotação de culturas

**16** - "A hora e a vez do setor de infra-estrutura. Estamos iniciando um novo ciclo econômico. O setor de bens de consumo já chegou ao limite." (O Globo - 03/08/97)

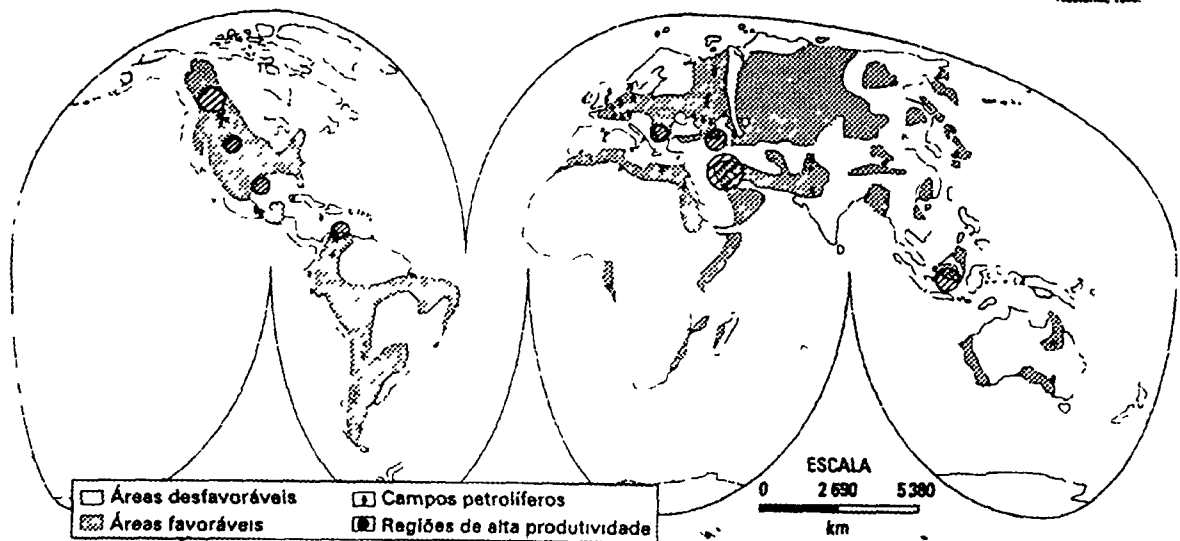
São exemplos de indústrias de bens de produção e de bens de consumo, respectivamente:

- (A) petroquímica – automobilística  
(B) siderúrgica - petroquímica  
(C) aeronáutica – siderúrgica  
(D) alimentar - farmacêutica  
(E) têxtil - alimentar

17 - Observe o mapa

### O PETRÓLEO NO MUNDO

Fonte: Adaptação de Lima, Vitor e Assunção, Sérgio Estanislau. Geografia geral. São Paulo: Nacional, 1984.



A alternativa que indica regiões de alta produtividade de petróleo é:

- (A) México - Japão - Venezuela  
 (B) México - África do Norte - Japão  
 (C) México - Venezuela - Oriente Médio  
 (D) África do Norte - Japão - Oriente Médio  
 (E) África do Norte - Oriente Médio - Venezuela

18 - Considere os dados abaixo

As 500 Maiores do Mundo -1996	
Países com Maior N° de Companhias	
Estados Unidos	182
Japão França Alemanha	126 42 41
Grã Bretanha	34
Outros Países	75

América Latina - Maiores Empresas		
Posição	Empresa	País
73	PDVSA (petróleo)	Venezuela
97	PEMEX (petróleo)	México
202	PETROBRAS	Brasil
238	TELEBRÁS	Brasil
256	BANCO DO BRASIL	Brasil
287	ITAU SÁ	Brasil
367	BANCO BRADESCO	Brasil

JB 05/08/97 Fortune Amencas

Uma interpretação correta dos dados, quanto às maiores empresas mundiais, está indicada na seguinte alternativa:

- (A) concentração nos Estados Unidos, Japão e Europa Ocidental  
 (B) reduzida participação das empresas japonesas e européias no setor financeiro  
 (C) dispersão mundial com as primeiras colocações para empresas da América Latina  
 (D) diminuição do número de empresas americanas e alemãs e aumento das francesas  
 (E) colocação das empresas latino-americanas entre as dez primeiras, principalmente no setor de informática

## Supletivo Rio de Janeiro - Geografia - 1997

**19** - Considere as descrições abaixo:

- 1 - "Mudanças ecológicas regressivas da vegetação, dos solos ou do regime hídrico que terminam por reduzir a capacidade de sustentação e produtividade das terras submetidas à ação mais intensa da erosão."
- 2 - "Aumento das concentrações naturais de alguns gases como o dióxido de carbono e o metano, provocado pela queima de combustíveis fósseis causando retenção maior de calor, e o conseqüente aquecimento da terra."
- 3 - "Presença de gases tóxicos e partículas sólidas no ar, resultante da eliminação de resíduos por certos tipos de indústrias e queima de carvão e petróleo em usinas, automóveis e no sistema de aquecimento doméstico."

Os problemas decorrentes da degradação do meio ambiente descritos nos quadros 1, 2 e 3 são respectivamente:

- (A) desertificação - poluição visual - inversão térmica  
 (B) desertificação - efeito estufa - poluição atmosférica  
 (C) poluição das águas - inversão térmica - poluição visual  
 (D) inversão térmica - poluição atmosférica - poluição visual (E) poluição das águas - efeito estufa - poluição atmosférica

**20** -

<b>NAFTA</b>			
<b>ACORDO DE LIVRE COMÉRCIO DA AMÉRICA DO NORTE</b>			
<b>INDICADORES\PAÍSES</b>	1 -----	2 -----	3 -----
Área (km <sup>2</sup> )	9.970.610	9.355.855	1.972.547
População absoluta	27.300.000	250.928.000	82.151.000
Renda per capita (US\$)	21.260	22.560	2.870

*Fonte: World Atlas - Webster's Cone/se -1995*

O quadro acima, para ser preenchido corretamente, deverá incluir nos espaços referentes aos números 1, 2 e 3, respectivamente, os seguintes países:

- (A) México - Estados Unidos - Canadá  
 (B) Estados Unidos - Canadá - México  
 (C) Estados Unidos - México - Canadá  
 (D) Canadá - México - Estados Unidos  
 (E) Canadá - Estados Unidos - México

**21-** A Guerra Fria terminou. O bipolarismo deu lugar a um mundo multipolar.

Os três principais pólos ou centros da economia mundial atualmente são:

- (A) Europa Oriental - Rússia - Japão  
 (B) Europa Ocidental - Rússia - China  
 (C) Europa Oriental - América Latina - China  
 (D) Europa Ocidental - Estados Unidos - Japão  
 (E) Sudeste Asiático - Estados Unidos - América Latina

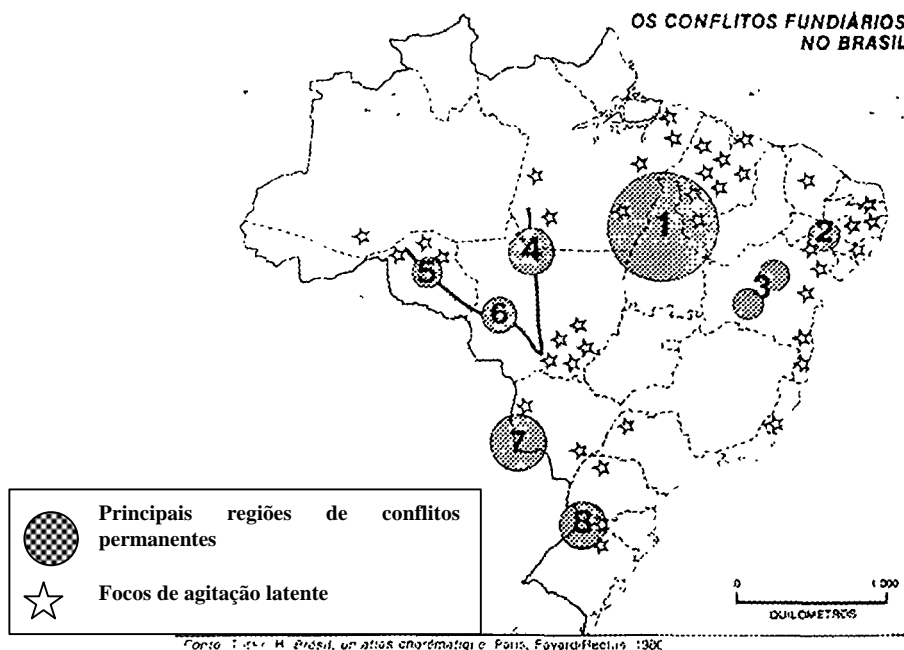
## Supletivo Rio de Janeiro - Geografia - 1997

**22** - "Fragilidade das instituições, fronteiras artificiais, neocolonialismo levaram a maior parte dos novos países a uma sucessão de golpes de Estado, especialmente entre 1960 e 1975, além de inúmeros conflitos tribais e de fronteiras." (Atlas Geopolítico)

A descrição acima refere-se à seguinte parte do mundo:

- (A) Continente Africano                      (B) América do Norte  
(C) Sudeste Asiático                      (D) América do Sul                      (E) Oriente Médio

**23** - Observe o mapa abaixo:



A região de conflitos fundiários indicada pelo número 1 é:

- (A) Cruz Alta .                                      (B) Oeste da Bahia  
(C) Rondônia - Acre                              (D) Araguaia - Tocantins  
(E) Pontal de Paranapanema

**24** - **A nova ordem internacional revitaliza os princípios teóricos do capitalismo.**

Uma das medidas que evidencia a política neoliberal em diversos países do mundo é:

- (A) restrição à entrada de investimentos externos  
(B) maior participação do Estado na economia  
(C) execução de uma economia planificada  
(D) criação de barreiras protecionistas  
(E) privatização de empresas estatais

**25** - Na Região Sudeste brasileira destacam-se os seguintes portos de embarque e desembarque de mercadorias:

- (A) Salvador - Vitória - Paranaguá                      (B) Vitória - Rio Grande - Rio de Janeiro  
(C) Paranaguá - Angra dos Reis - Santos -                      (D) Angra dos Reis - Santos - Rio de Janeiro  
(E) São Sebastião - Vitória - São Francisco do Sul

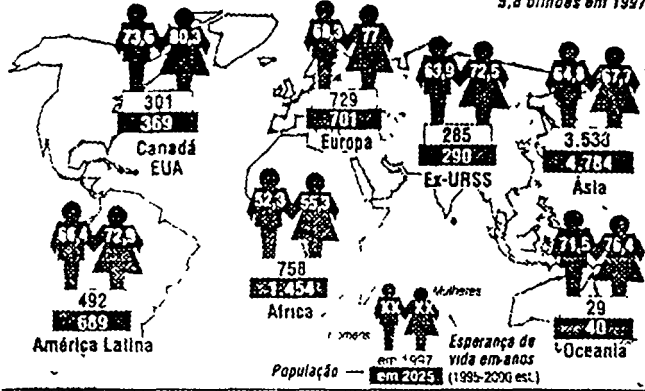


28 - Analise os dados relativos à população do quadro abaixo

### A população em 2025 (em milhões)

**O planeta terá 8 bilhões de habitantes**

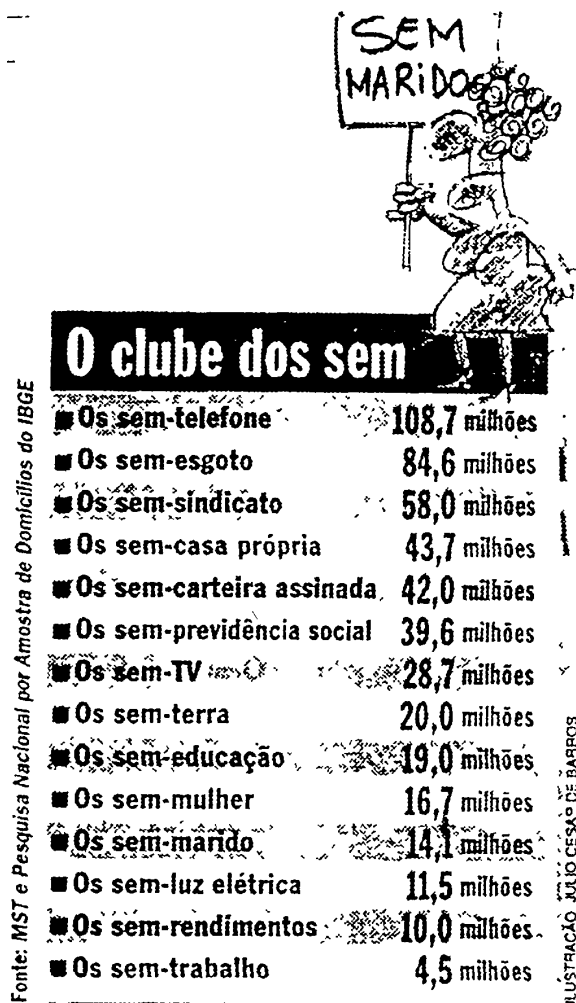
5,8 bilhões em 1997



A alternativa que apresenta uma interpretação correta é:

- (A) A maior esperança de vida está na Ásia.
- (B) A menor população absoluta, em 1997, está na Ásia.
- (C) A estimativa para 2025 indica a redução da população absoluta da Europa.
- (D) A estimativa para 2025 indica que o continente africano terá a maior população absoluta.
- (E) A menor esperança de vida está na Oceania e a maior população absoluta em 1997 está na Ásia.

29 - Observe a ilustração abaixo



Considerando-se uma população de 157 milhões de habitantes e os dados acima relacionados, uma interpretação correta é fornecida através da seguinte alternativa:

- (A) alta renda per capita da população
- (B) precário sistema de transportes coletivos
- (C) grande desigualdade entre homens e mulheres
- (D) exclusão de grande parcela da população do acesso a bens e serviços
- (E) pequeno percentual da população participante do setor informal da economia

## Supletivo Rio de Janeiro - Geografia - 1997

**30-** O governo da Tailândia aprovou ontem um pedido de empréstimo ao Fundo Monetário Internacional (FMI) para sanear a economia do país, que atravessa uma grave crise (...) foi acertado o fechamento de 14 instituições financeiras por abuso de empréstimos internacionais. (...)

As condições do Fundo são severas. Para conceder o empréstimo, o FMI quer limitar a autonomia do Ministério das Finanças e do Banco Central da Tailândia. O país também vai ser obrigado a aumentar o imposto de valor agregado de 7% para 10%, além de exigir cortes nos gastos públicos.

Até pouco tempo, a economia tailandesa era considerada uma das mais dinâmicas entre os países emergentes. Hoje o país deve US\$ 90 bilhões aos bancos estrangeiros. A maioria dos empréstimos foi contraída pela iniciativa privada. (...) A competição da China e do Vietnã também prejudicou a economia da Tailândia, que tinha na exportação o seu grande motor. O país se aproveitava da mão-de-obra barata para conseguir preços competitivos na indústria de bens de consumo. Depois de quase 20 anos de crescimento vertiginoso, a Tailândia começa a conviver com o desemprego e com a desvalorização cambial. (...)

(JB 06/08/97)

Uma interpretação correta do texto permite reconhecer a seguinte realidade:

- (A) auxílio do FMI às economias de países exportadores de bens de consumo, com incentivo ao aumento dos gastos públicos.
- (B) crise na economia tailandesa depois de quase 20 anos de crescimento, com solução definitiva após empréstimos do FMI.
- (C) atuação do FMI na redução de impostos e no aumento "dos salários pagos aos trabalhadores de países asiáticos.
- (D) empréstimos internacionais junto ao FMI obtidos pelas empresas estatais, maiores devedoras na Tailândia.
- (E) fragilidade da economia tailandesa dependente de investimentos estrangeiros, sujeita à interferência do FMI.

1 – **Letra C.**

2 – **Letra B.**

3 – **Letra C.**

A maior parte da atividade agrícola no Brasil se destina ao mercado externo e está nos grandes latifúndios.

4 – **Letra B.**

O narcotráfico é mantido pelo consumo nas regiões mais ricas do mundo.

5 – **Letra B.**

6 – **Letra D.**

Como a agricultura brasileira se destina ao mercado externo, produtos de grande aceitação internacional foram prevalentes como investimento neste setor.

7 – **Letra A.**

8 – **Letra C.**

9 – **Letra D.**

10 – **Letra B.**

El Niño é uma corrente quente do Pacífico que promove a formação de massas de ar quente sobre o continente sul americano.

11 – **Letra A.**

12 – **Letra A.**

13 – **Letra B.**

Os chamados países emergentes, como México, Brasil e Coréia do Sul, caracterizam-se pela industrialização crescente, embora a maioria da população não se beneficie de suas vantagens.

14 – **Letra E.**

Porque são necessárias quedas d'água de grande volume de água.

15 - **Letra D.**

O terraceamento divide a área em terraços de acordo com o “andar” do terreno.

16 – **Letra A.**

Bens de produção correspondem às indústrias que produzem material/equipamentos para outras.

17 – **Letra C.**

18 – **Letra A.**

19 – **Letra A.**

20 – **Letra E.**

Porque o Canadá é o terceiro maior país do mundo. Os EUA têm uma população muito grande e o México apresenta baixa renda per capita.

21 – **Letra D.**

22 – **Letra A.**

Os termos-chave para identificação são: período (descolonização da África) e conflitos tribais (várias etnias).

23 – **Letra D.**

24 – **Letra E.**

O neoliberalismo se caracteriza pelo afastamento do Estado da economia e a prevalência do capital financeiro.

25 – **Letra D.**

Respectivamente RJ, SP e RJ.

26 – **Letra C.**

27 – **Letra E.**

Pelo quadro, podemos concluir que várias empresas se transferiram para fora do eixo RioSão Paulo. Esse fato tem como atratores os incentivos fiscais oferecidos pelos governos estaduais como os do Ceará, Paraná e Espírito Santo.

28 – **Letra C.**

A Europa apresenta vários países com crescimento populacional vegetativo (nascem menos pessoas do que morrem).

29 – **Letra D.**

30 – **Letra E.**

Os países “emergentes” apresentam desenvolvimento econômico dependente dos países ricos, que transferem recursos objetivando produzir com baixo custo. Contudo, não produzem melhora na qualidade de vida da população, favorecendo a concentração de renda.

Este arquivo é só uma amostra de como são as  
nossas apostilas.

Para ter acesso às páginas que contêm o resto  
das provas resolvidas descritas no índice, você  
deverá adquirir esta apostila  
em **CDROOM** (CD com todas as apostilas).

Neste caso, vá a

<http://www.escolademestres.com/supletivo>.

---

## GEOGRAFIA

Tudo o que existe e tudo o que acontece está situado em um tempo e um espaço. Tempo e espaço são então chamados de elementos abstratos. Um elemento abstrato é aquele que não pode ser percebido por meio dos nossos sentidos (tato, visão, audição, paladar, olfato), porque seu significado nos vem através do pensamento. Ou seja, os elementos abstratos, como tempo e espaço, existem, mas não podem ser vistos ou tocados.

O tempo representa o momento, o instante, a época em que alguma coisa acontece ou existe.

O espaço refere-se ao lugar que as coisas ocupam e onde elas acontecem.

Como esses dois conceitos são abstratos usamos noções de intensidade ou distância para medi-los. Tempo em segundos, minutos, horas, dias, meses, anos... Espaço em milímetros, centímetros, metros, quilômetros... no entanto o tempo da natureza diferencia-se do tempo do homem. É um tempo muito lento no qual ocorrem as transformações naturais sendo chamado de **tempo geológico**. As transformações que ocorrem na sociedade, embora também levem muito tempo, são mais rápidas do que as que acontecem na natureza e esse tempo é designado **tempo histórico**.

A Geografia é a ciência que estuda o espaço geográfico, ou seja, o espaço que a humanidade habita. Não trata dos espaços astronômicos ou microscópicos, por exemplo, mas dos espaços que o homem consegue alcançar: ruas, bairros, cidades, países e de toda a superfície terrestre.

O espaço geográfico possui elementos naturais (rios, montanhas, árvores...) e elementos criados pelo homem (edifícios, estradas, plantações...) e ambos são estudados pela Geografia. Podemos dizer então, que o interesse da Geografia reside em estudar os aspectos da natureza que influenciam na vida do homem e que são utilizados por ele como recursos (clima, solo, riquezas minerais...).

### 1- O SISTEMA SOLAR

O sistema solar é um sistema planetário, ou seja, um sistema formado por um astro maior (estrela: Sol), ao redor do qual giram astros menores (planetas, satélites e outros corpos celestes). A Terra faz parte do sistema solar, que tem o sol como centro. Os planetas desse sistema são: Mercúrio, Vênus, Terra, Marte, Júpiter, Saturno, Urano, Netuno e Plutão.

O Sistema Solar é composto ainda por **Planetóides** (ou Asteróides – minúsculos planetas que giram em torno do Sol, com órbitas entre Marte e Júpiter), **Cometas** (astros com dimensões entre 1 e 100 Km, que giram em torno do Sol. Geralmente formados por 3 partes: núcleo, cabeleira ou coma e cauda), **Satélites** (astros que giram ao redor dos planetas. A Lua é satélite da Terra) e **Meteoros** (também denominados Meteoritos ou Meteoróides. São astros minúsculos que giram ao redor do Sol em órbitas abertas e irregulares).

### MOVIMENTOS DA TERRA

Embora possua uma forma arredondada, a Terra não é uma esfera perfeita. Ela possui um **formato** arredondado com um pequeno achatamento nos pólos, sendo chamado de **geóide**. A Terra, assim como os outros planetas, não permanece parada. A forma esférica também é comum aos outros planetas influenciados pelo **movimento de rotação**. Este movimento consiste em girar em torno de si mesmo (ao redor de seu próprio eixo) – o que produz o dia e a noite e os diferentes horários da Terra. A velocidade deste movimento é de 1.667 Km por hora na linha do Equador. Essa volta dura aproximadamente 23 horas e 56 minutos. Daí resulta a divisão do dia em 24 horas.

Outro movimento é o de **translação**. Esse movimento se realiza ao redor do Sol, seguindo uma órbita (caminho) elíptica. A velocidade média dessa órbita é de 106.920 Km por hora e, para

Este arquivo é só uma amostra de como são as  
nossas apostilas.

Para ter acesso às páginas que contêm o resto  
das provas resolvidas descritas no índice, você  
deverá adquirir esta apostila  
em **CDROOM** (CD com todas as apostilas).

Neste caso, vá a

<http://www.escolademestres.com/supletivo>.

---

**Exames Supletivos – Resumo Teórico**

**GEOGRAFIA**

4. Hinduísmo – Índia.
5. Judaísmo – Europa, América do Sul (Uruguai, Argentina), América do Norte , Líbano, Israel, Jordânia, sudeste da Rússia...